

*Демонстрационный вариант*

## Диагностическая работа для учащихся 7 классов

### МАТЕМАТИЧЕСКАЯ ГРАМОТНОСТЬ

#### ИНСТРУКЦИЯ для УЧАЩИХСЯ

Работа состоит из четырех заданий, каждое задание описывает одну ситуацию. В каждом задании два вопроса. Таким образом, всего в работе 8 вопросов, на которые вам необходимо будет дать ответ.

На выполнение работы отводится 40 минут.

Внимательно читайте описание ситуации, вчитывайтесь в условие, рассматривайте иллюстрации.

Обращайте внимание на то, в какой форме требуется дать ответ.

При ответе на вопрос с выбором ответа нужно указать все варианты ответа, которые вы считаете верными, поставив знак «✓».

При ответе на вопрос с кратким ответом записывайте ответ в специально отведенном месте после слова «Ответ».

В работе есть вопросы, к которым нужно не только дать ответ, но и записать обоснование, привести решение. В этих случаях написано: «Запишите ответ и приведите соответствующее обоснование», указано место для ответа и для вашего решения.

Задания выполняйте последовательно. Если не удаётся сразу найти ответ на поставленный вопрос, пропустите его и переходите к следующему. Если останется время, вы сможете вернуться к пропущенным заданиям или отдельным вопросам.

И не забывайте делать проверку полученного ответа.

Желаем успеха!

**Выполните задания 1-4.**

**Задание 1. «Тормозной путь».** Тормозным путём называется расстояние, которое прошло транспортное средство от момента нажатия на педаль тормоза до полной остановки. При движении автомобиля его тормозной путь зависит от его скорости, а также от состояния дорожного полотна, которое зависит от погодных условий.



**Вопрос 1/2.** Сотрудник дорожно-патрульной службы проводит занятие с водителями, нарушившими на дороге скоростной режим. Он просит их, используя данные представленные на диаграмме, выбрать в таблице верные утверждения.



Какие утверждения являются верными? Поставьте V.

<i>Утверждение</i>	<i>Верно</i>
1) Чем хуже состояние дороги, тем короче тормозной путь	
2) Чем больше начальная скорость, тем длиннее тормозной путь на сухом асфальте	
3) Длина тормозного пути на мокром асфальте более чем в 1,5 раза больше длины тормозного пути на сухом асфальте	

**Вопрос 2/2.** На занятиях с будущими водителями изучается, от каких параметров зависит тормозной путь автомобиля.



Для расчёта ориентировочной длины тормозного пути легкового автомобиля на практике используют формулу:

$$S = \frac{v^2}{254 \cdot k}, \text{ где}$$

$S$  – тормозной путь (в метрах),

$v$  – скорость автомобиля в момент начала торможения (в км/ч),

$k$  – коэффициент сцепления шин с дорогой.

Эта формула удобна тем, что скорость в ней подставляется в км/ч, а длина выражается в метрах.

Значения  $k$  – коэффициента сцепления шин с дорогой приведены в таблице:

<i>Особенности движения автомобиля</i>	<i>Значение <math>k</math></i>
по сухому асфальту	0,7
по мокрой дороге	0,4
по укатанному снегу	0,2
по обледенелой дороге	0,1

Автомобиль, двигавшийся по мокрой дороге со скоростью 60 км/ч, начал торможение.

Вычислите его тормозной путь, результат округлите до целого.

Ответ: \_\_\_\_\_

---

**Задание 2. «Поездки на метро».** В кассе метрополитена продают билеты на различное количество поездок (см. таблицу).

<i>Количество поездок</i>	1	2	20	40	60
<i>Стоимость билета, р.</i>	55	110	747	1494	1765

Билеты на одну и на две поездки действуют 5 дней с момента продажи (включая день продажи). Билеты на 20, 40, 60 поездок действуют 90 дней с момента продажи.

**Вопрос 1/2.** Лиза ездит на занятия в колледж на метро, поэтому купила билет на 40 поездок. Но поскольку Лиза заболела и не могла ездить на занятия некоторое время, она успела совершить только 36 поездок.



С учётом этого обстоятельства оправдала ли себя покупка билета на 40 поездок по сравнению с покупкой одноразовых билетов?

Запишите ответ и приведите соответствующее обоснование.

Ответ: \_\_\_\_\_

Обоснование: \_\_\_\_\_

100-БАЛЛОВ  
Делаем невозможное возможным

**Вопрос 2/2.** Мама Лизы работает 5 дней в неделю и пользуется для поездки на работу и обратно метрополитеном. В другие дни она не пользуется метрополитеном.



Выгодно ли ей покупать билет на 60 поездок?


Запишите ответ и приведите соответствующее обоснование.

Ответ: \_\_\_\_\_

Обоснование: \_\_\_\_\_

**Задание 3. «Бугельные подъемники».** Для подъёма горнолыжников и сноубордистов к месту начала спуска используют различные типы горнолыжных подъемников: гондольные, кресельные и бугельные

**Бугельные подъемники** осуществляют подъем лыжников от нижней станции до верхней за счёт бугеля (перекладины) или тарелки, их вместимость – 1 или 2 человека.

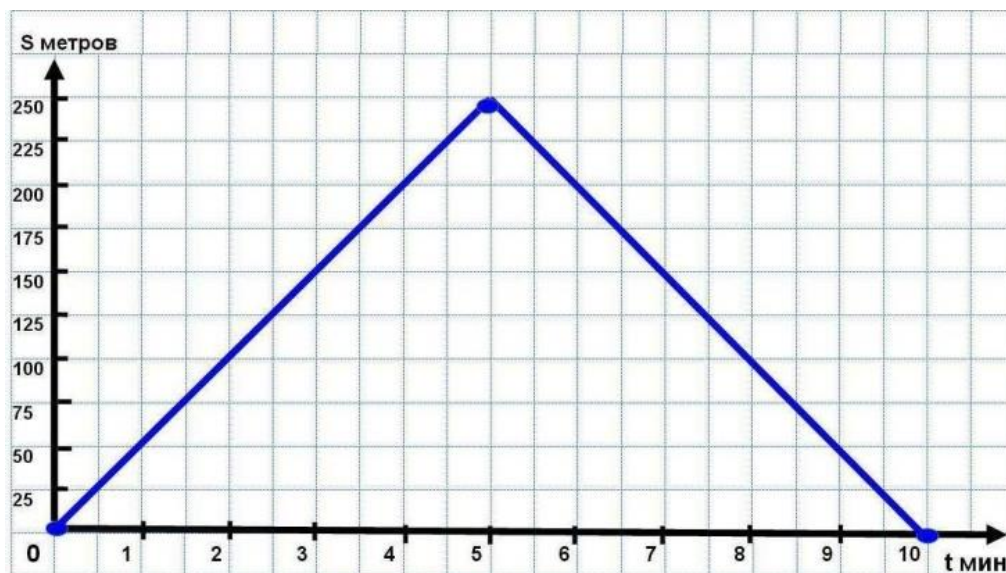


Характеристики двух бугельных подъемников представлены в таблице.

Бугельный тип подъемника	Длина трассы, м	Время подъёма, мин	Пропускная способность, чел./ч	Вместимость одного бугеля, чел.	
	А	250	5	600	1
	Б	180	4	360	2

**Вопрос 1/2.** На рисунке изображён график зависимости расстояния между бугелем и нижней станцией подъемника от времени движения.

По горизонтальной оси отложено время движения бугеля (в минутах), по вертикальной оси – расстояние от бугеля до нижней станции (в метрах).



Посмотрите на график и ответьте на вопросы:

А) Какое расстояние будет между бугелем и нижней станцией через 3 минуты после начала подъёма?

Ответ: \_\_\_\_\_

Б) Для какого подъемника (А или Б) представлен график зависимости?

Ответ: \_\_\_\_\_


**Вопрос 2/2.** Пропускная способность подъёмника – это количество лыжников, которые могут подняться от нижней станции до верхней в течение одного часа.



Что необходимо знать из приведённого ниже списка, чтобы подсчитать пропускную способность подъёмника? Поставьте V:

Характеристика	
1) Длина трассы подъёмника	
2) Вместимость одного бугеля	
3) Время подъёма бугеля с нижней станции до верхней	
4) Общее количество бугелей на подъёмнике	
5) Перепад высот между нижней и верхней станциями	

**Задание 4. «Покупка телевизора».** Телевизоры различаются не только моделями, но и длиной диагонали экрана. Традиционно диагональ экрана измеряют в дюймах: 1 дюйм  $\approx$  2,54 см.



**Вопрос 1/2.** Семья Петровых решила купить телевизор и повесить его в гостиной в нише круглой формы. Диаметр ниши равен 1,6 м.



100-БАЛЛОВ  
Делаем невозможное возможным



В магазине им предложили современные безрамочные телевизоры с диагоналями экранов: 50, 55, 60, 65, 70, 80, 85, 90 и 100 дюймов.


Из предложенных в магазине вариантов выберите телевизор, имеющий наибольшее значение диагонали экрана, подходящее Петровым.

Запишите ответ.

Ответ: \_\_\_\_\_



**Вопрос 2/2.** Семья Ивановых решила купить телевизор и повесить его на кухне в нише шкафа. Размер ниши: ширина – 80 см, высота – 60 см.



Сможет ли семья Ивановых разместить в нише широкоформатный телевизор с диагональю экрана 37 дюймов, если его высота равна 18 дюймам?

Запишите ответ и приведите соответствующее обоснование.

Ответ: \_\_\_\_\_

Обоснование: \_\_\_\_\_

\_\_\_\_\_

\_\_\_\_\_