

**Проверочная работа
по БИОЛОГИИ**

7 КЛАСС

Вариант 1

Инструкция по выполнению работы

На выполнение работы по биологии отводится 60 минут. Работа включает в себя 13 заданий.

Ответы на задания запишите в поля ответов в тексте работы. В случае записи неверного ответа зачеркните его и запишите рядом новый.

При выполнении работы не разрешается пользоваться учебником, рабочими тетрадями и другим справочным материалом.

При необходимости можно пользоваться черновиком. Записи в черновике проверяться и оцениваться не будут.

Советуем выполнять задания в том порядке, в котором они даны. В целях экономии времени пропускайте задание, которое не удаётся выполнить сразу, и переходите к следующему. Если после выполнения всей работы у Вас останется время, то Вы сможете вернуться к пропущенным заданиям.

Желаем успеха!

Таблица для внесения баллов участника

Номер задания	1.1	1.2	2	3	4	5	6	7	8	9	10	11	12	13.1	13.2	13.3	Сумма баллов	Отметка за работу
Баллы																		

1

Рассмотрите изображения различных объектов живой природы.

1.1. Подпишите их названия, используя слова из предложенного списка: *листочковые мхи*, *папоротниковые*, *бурые водоросли*, *базидиомицеты*.



А. _____



Б. _____



В. _____



Г. _____



1.2. Три из изображённых объектов объединены общим признаком. Выпишите название объекта, «выпадающего» из общего ряда. Объясните свой выбор.



Ответ. _____

2

Каково значение вымерших плаунов и хвощей в природе? Назовите одно из них.



Ответ. _____

3

Татьяна и Тимофей собрали и подготовили для гербария образцы растений. Для каждого растения им необходимо составить «паспорт», соответствующий положению этого растения в общей классификации организмов. Помогите ребятам записать в таблицу **слова** из предложенного списка в такой последовательности, чтобы получился «паспорт» растения.

Список слов:

- 1) Двудольные
- 2) Покрытосеменные
- 3) Соя культурная
- 4) Растения
- 5) Соя

Царство	Отдел	Класс	Род	Вид

4

Известно, что **берёза повислая** – крупное дерево, кора которого широко используется в хозяйстве. Используя эти сведения, выберите из приведённого ниже списка два утверждения, относящиеся к описанию **данных** признаков этого растения. Запишите в ответе **цифры**, соответствующие выбранным ответам.

- 1) Берёза малотребовательна к внешней среде и может расти в самых разнообразных условиях.
- 2) При благоприятных условиях растение достигает 25–30 м в высоту, 7–12 м в диаметре кроны и до 80 см в диаметре ствола.
- 3) Пыльца берёзы является очень сильным и опасным аллергеном.
- 4) Из берёсты делают кораба и корзины, в древности употребляли как писчий материал.
- 5) Соцветия берёзы повислой называются серёжками.

Ответ.

--	--

5

Выберите из предложенного списка и вставьте в текст пропущенные слова, используя для этого их цифровые обозначения. Впишите номера выбранных слов на места пропусков в тексте.

Хламидомонада

Мелкие пресные водоёмы часто приобретают изумрудный оттенок из-за бурного размножения в них хламидомонады. По своему строению хламидомонада – это _____(А) зелёная водоросль. Она передвигается в воде при помощи _____(Б). Хлорофилл и другие красящие вещества у хламидомонады находятся в _____(В).

Список слов:

- 1) ресничка
- 2) нитчатая
- 3) жгутик
- 4) хлоропласт
- 5) одноклеточная
- 6) хроматофор

Запишите в таблицу выбранные цифры под соответствующими буквами.

Ответ.

А	Б	В

6

Приведите по три примера растений, относящихся к указанным семействам. Запишите их названия в таблицу.

Капустные (Крестоцветные)	Злаки

7

Установите соответствие между характеристиками и отделами растений: к каждой позиции, данной в первом столбце, подберите соответствующую позицию из второго столбца.

ХАРАКТЕРИСТИКИ

- А) споры развиваются на спорангиях в листьях
- Б) почти не встречаются в засушливых регионах
- В) образуют видоизменённый побег – корневище
- Г) яйцеклетка созревает в семязачатке
- Д) семязачатки расположены на чешуях
- Е) образуют пыльцу

ОТДЕЛЫ РАСТЕНИЙ

- 1) Голосеменные
- 2) Папоротники

Запишите в таблицу выбранные цифры под соответствующими буквами.

Ответ.

А	Б	В	Г	Д	Е

8

Установите последовательность стадий развития папоротника, начиная с образования половых клеток. В ответе запишите соответствующую последовательность цифр.

- 1) созревание спор на нижней стороне листа
- 2) образование заростка
- 3) образование и дробление зиготы
- 4) развитие листостебельного растения
- 5) формирование сперматозоидов и яйцеклетки

Ответ.

--	--	--	--	--

9

К какому семейству относят растение, имеющее следующую формулу цветка?

$$\uparrow \text{Ч}_{(5)} \text{Л}_{1+2+(2)} \text{Т}_{(9)+1} \text{П}_1$$

- 1) Розоцветные
- 2) Сложноцветные
- 3) Паслёновые
- 4) Бобовые (Мотыльковые)

Ответ.

10

Какой символ в формуле цветка (см. задание 9) позволяет судить о том, что некоторые части цветка срослись? Какие это части?

Ответ. _____

11

Верны ли следующие суждения о размножении мха кукушкина льна?

- А. Развитие спор происходит внутри коричневой коробочки на ножке.
 Б. В дальнейшем из споры формируется зелёная нить с почками, из которых вырастают листостебельные побеги.

- 1) верно только А
- 2) верно только Б
- 3) оба суждения верны
- 4) оба суждения неверны

Ответ.

12

Рассмотрите изображения шести представителей мира грибов. Предложите основание, согласно которому эти грибы можно разделить на две группы по три представителя в каждой.



Маслёнок



Лисичка



Польский гриб



Мухомор красный



Белый гриб



Шампиньон

Заполните таблицу: запишите в неё основание, по которому были разделены грибы, общее название для каждой группы грибов и перечислите грибы, которые вы отнесли к этой группе.


Номер группы	Какое основание позволило разделить грибы?	Как называется данная группа грибов?	Какие грибы относятся к данной группе?
Группа 1			
Группа 2			



13

13.1. Рассмотрите изображения растений: *хламидомонада*, *рябина обыкновенная*, *сосна обыкновенная*. Подпишите их названия под соответствующими изображениями.

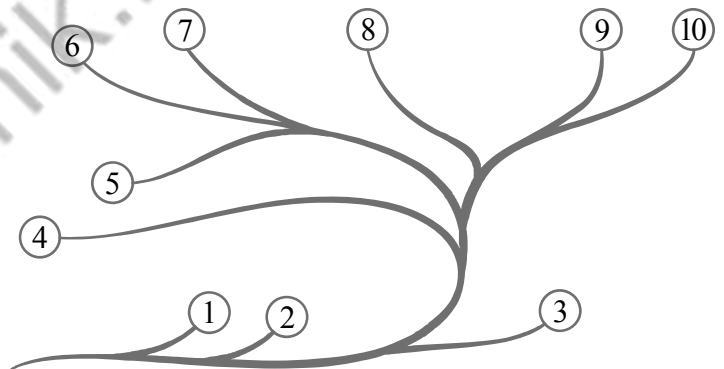
Под каждым названием растения укажите среду его обитания: *наземно-воздушная*, *водная*.



Название			
Среда обитания			

13.2. Рассмотрите схему, отражающую развитие растительного мира Земли.

- 1 – Зелёные водоросли
- 2 – Красные водоросли
- 3 – Бурые водоросли
- 4 – Мхи
- 5 – Плауны
- 6 – Папоротники
- 7 – Хвои
- 8 – Голосеменные
- 9 – Однодольные
- 10 – Двудольные



Какими цифрами на схеме обозначены группы организмов, к которым относят изображённые на рисунках растения? Запишите в таблицу номера соответствующих групп.

Сосна обыкновенная	Хламидомонада	Рябина обыкновенная

13.3. Какое из этих растений выделяет фитонциды?

Ответ. _____

Система оценивания проверочной работы

Правильный ответ на каждое из заданий 1.1, 9, 11, 13.3 оценивается 1 баллом.

Правильный ответ на задания 3 и 8 оценивается 2 баллами. Если в ответе переставлены местами два элемента, выставляется 1 балл, более двух элементов – 0 баллов.

Полный правильный ответ на каждое из заданий 4, 5, 7, 13.2 оценивается 2 баллами. Если в ответе допущена одна ошибка (в том числе написана лишняя цифра, или не написана одна необходимая цифра), выставляется 1 балл; если допущено две или более ошибки – 0 баллов.

Номер задания	Правильный ответ
3	42153
4	24
5	536
7	222111
8	53412
9	4
11	3

1

1.1	А – листостебельные мхи Б – базидиомицеты В – бурые водоросли Г – папоротниковые
-----	---

1.2

Содержание верного ответа и указания к оцениванию	Баллы
Правильный ответ должен содержать следующие <u>элементы</u> : 1) <u>объект</u> : базидиомицеты; 2) <u>объяснение</u> , например: это представители царства грибов Объяснение может быть дано в иной, близкой по смыслу формулировке, не искажающей его смысла	
Правильно определён объект и дано объяснение	2
Правильно определён объект, объяснение отсутствует / дано неправильно.	1
Объект определён неправильно / не определён независимо от наличия/отсутствия объяснения. ИЛИ Ответ неправильный	0
<i>Максимальный балл</i>	<i>2</i>

2

Содержание верного ответа и указания к оцениванию (допускаются иные формулировки ответа, не искажающие его смысла)	Баллы
Правильный ответ должен содержать <u>указание на значение вымерших плаунов и хвощей в природе</u> , например, древние плауны и хвощи выделяли кислород, необходимый для дыхания как самих растений, так и других организмов; ИЛИ древние плауны и хвощи способствовали образованию каменного угля	
Правильно указано значение	1
Значение не указано / указано неправильно	0
<i>Максимальный балл</i>	<i>1</i>

6

Указания к оцениванию	Баллы
Правильный ответ должен содержать <u>по три примера</u> растений, относящихся к семействам Капустные (Крестоцветные) и Злаки	
Правильно указано по три примера растений в каждом семействе	2
Правильно приведено два-три примера растений, относящихся к одному семейству, и два примера растений, относящихся к другому семейству	1
Все иные ситуации, не соответствующие правилам выставления 2 и 1 балла. ИЛИ Ответ неправильный	0
<i>Максимальный балл</i>	2

10


Содержание верного ответа и указания к оцениванию (допускаются иные формулировки ответа, не искажающие его смысла)	Баллы
Правильный ответ должен содержать следующие <u>элементы</u> : 1) <u>символ</u> : скобки; 2) <u>объяснение</u> , например: в цветке сросшимися являются чашелистики, частично лепестки и тычинки	
Правильно указан символ и дано объяснение	2
Правильно указан только символ	1
Символ не указан / указан неправильно	0
<i>Максимальный балл</i>	2

12

Содержание верного ответа и указания к оцениванию (допускаются иные формулировки ответа, не искажающие его смысл)	Баллы
Правильный ответ должен содержать следующие <u>элементы</u> : <u>Основание</u> – строение нижнего слоя шляпки; 1) <u>группа 1</u> – трубчатые: белый гриб, маслёнок, польский гриб; 2) <u>группа 2</u> – пластинчатые: мухомор красный, шампиньон, лисичка	
Правильно заполнены пять ячеек таблицы	3
Без ошибок заполнены только четыре любые ячейки таблицы	2
Без ошибок заполнены только три любые ячейки таблицы	1
Все иные ситуации, не соответствующие правилам выставления 3, 2 и 1 балла. ИЛИ Ответ неправильный	0
<i>Максимальный балл</i>	3

13

13.1



Название	Сосна обыкновенная	Рябина обыкновенная	Хламидомонада
Среда обитания	Наземно-воздушная	Наземно-воздушная	Водная

Содержание верного ответа и указания по оцениванию	Баллы
Верно подписаны названия трёх растений и указаны среды их обитания	2
Верно подписаны названия не менее двух растений и указаны среды обитания одного-двух из них. ИЛИ Верно подписаны только названия трёх растений, среды обитания не указаны / указаны неверно	1
Все комбинации элементов, не соответствующие указаниям по выставлению 2 баллов и 1 балла. ИЛИ Ответ неправильный	0
<i>Максимальный балл</i>	2

13.2	сосна обыкновенная – 8 хламидомонада – 1 рябина обыкновенная – 10
13.3	сосна обыкновенная

Система оценивания выполнения всей работы

Максимальный балл за выполнение работы – 28.

Рекомендации по переводу первичных баллов в отметки по пятибалльной шкале

Отметка по пятибалльной шкале	«2»	«3»	«4»	«5»
Первичные баллы	0–9	10–16	17–22	23–28