

**Проверочная работа
по ФИЗИКЕ**

7 класс

Вариант 1

Инструкция по выполнению работы

На выполнение работы по физике даётся 45 минут. Работа содержит 11 заданий.

Ответом на каждое из заданий 1, 3-6, 8, 9 является число или несколько чисел. В заданиях 2 и 7 нужно написать текстовый ответ. В заданиях 10 и 11 нужно написать решения задач полностью. В случае записи неверного ответа зачеркните его и запишите рядом новый.

При выполнении работы можно пользоваться непрограммируемым калькулятором.

При необходимости можно пользоваться черновиком. Записи в черновике проверяться и оцениваться не будут.

Советуем выполнять задания в том порядке, в котором они даны. Для экономии времени пропускайте задание, которое не удаётся выполнить сразу, и переходите к следующему. Постарайтесь выполнить как можно больше заданий.

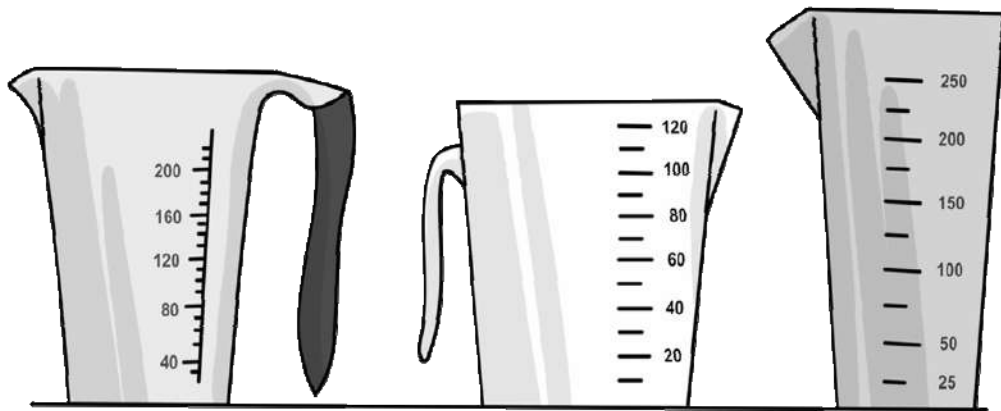
Желаем успеха!

Таблица для внесения баллов участника

Номер задания	1	2	3	4	5	6	7	8	9	10	11	Сумма баллов	Отметка за работу
Баллы													

1

Для приготовления пудинга Любе нужно 130 мл молока. На рисунке изображены три мерных стакана. Чему равна цена деления того стакана, который подойдёт Любе для того, чтобы наиболее точно отмерить нужный объём?



1

2

3

Ответ: _____ мл.

2

Если сжать льдинку в тёплой ладонке, то через некоторое время она растает. Как при этом изменится средняя скорость теплового движения молекул воды и их внутреннее строение?

Ответ: _____

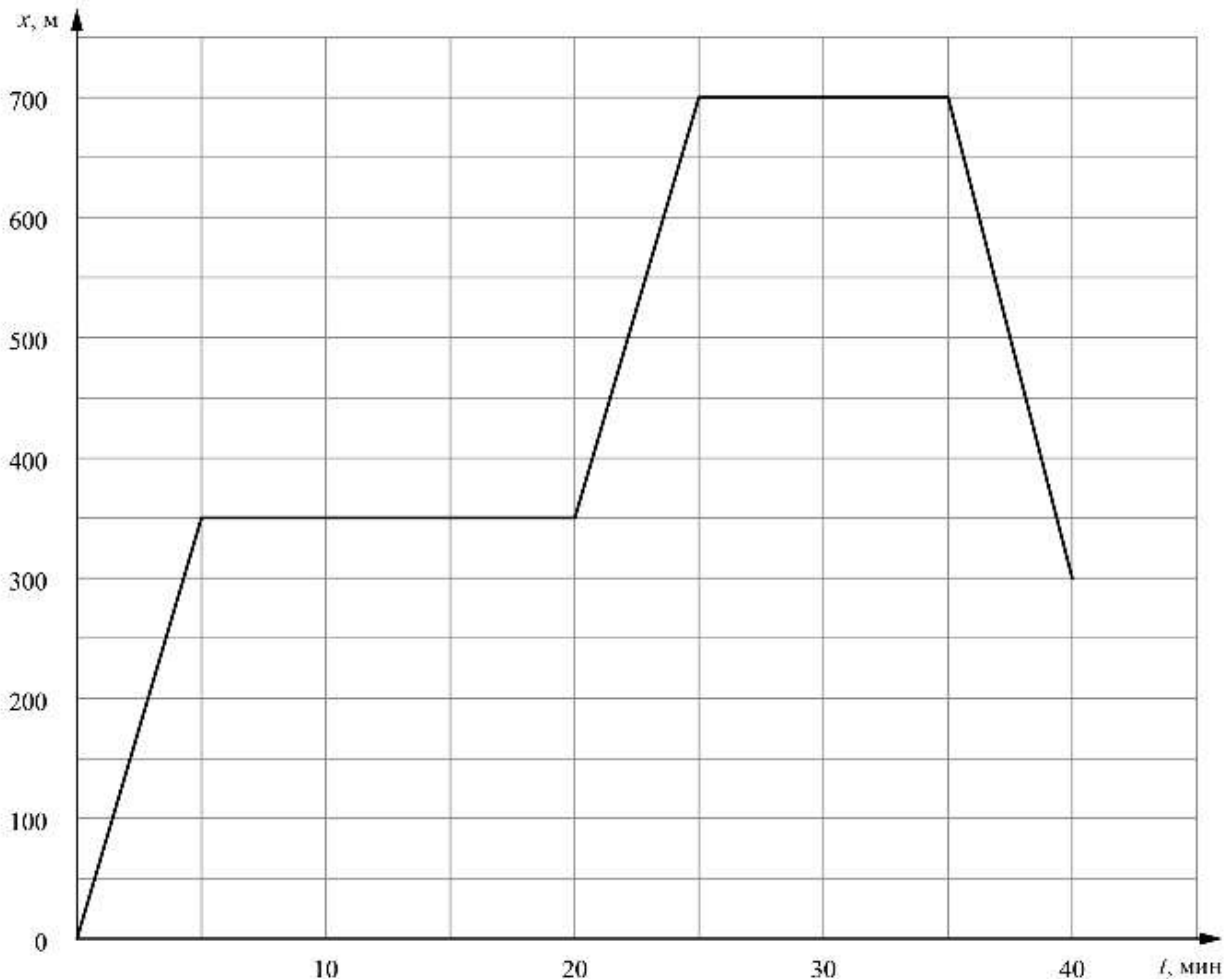
3

Однажды вечером Егор решил выйти на прогулку. Он обошёл весь парк за две пятых часа, двигаясь с постоянной скоростью, равной 5 км/ч. Сколько километров прошёл Егор по парку?

Ответ: _____ км.

4

Фёдор гуляет со своими друзьями по прямой аллее в парке, и они играют в прятки. Когда Фёдор прячется за скамейкой, он не двигается, в остальное время он бежит по дорожке в поисках укрытия. На графике показана зависимость координаты Фёдора от времени. За какое время от начала игры мальчик добрался до своего второго укрытия?



Ответ: _____ мин.

5

Алёше приснился сон, в котором он был космонавтом и оказался на другой планете. Алёше снилось, что на привезённый с Земли динамометр он подвесил груз массой 0,9 кг. При этом динамометр показал значение силы тяжести 4,5 Н. Чему равно ускорение свободного падения на этой планете?

Ответ: _____ Н/кг.

6

Определите среднюю плотность сливочного масла, если брусок такого масла размерами $6\text{ см} \times 5\text{ см} \times 3,8\text{ см}$ весит 100 г. Ответ выразите в г/см^3 и округлите до сотых долей.

Ответ: _____ г/см^3 .

7

Алла решила проверить – справедлив ли закон Гука для резинки для волос. В кабинете физики она взяла набор одинаковых грузиков массой по 50 г каждый и стала подвешивать их к резинке. Определите, выполняется ли закон Гука для изучаемой резинки? Ответ кратко поясните.

Количество подвешенных грузиков	Длина резинки, см
1	8
2	9
3	10
4	11
5	12

Ответ: _____

8

В сельской водонапорной башне высота уровня воды над землёй составляет 22 м. Какое дополнительное давление воды в трубе измерит манометр, установленный в системе водоснабжения на третьем этаже дома? Высота точки установки манометра над уровнем земли 9 м, плотность воды 1000 кг/м^3 . Ускорение свободного падения 10 Н/кг . Манометр проградуирован в атмосферах (атм); $1 \text{ атм} = 100\,000 \text{ Па}$.

Ответ: _____ атм.

9

Некоторые люди любят пить зимой витаминный напиток – сок из чёрной смородины, смешанный с мёдом. Плотность сока равна 1 г/см^3 , а плотность мёда в 1,4 раза больше плотности сока.

1) Определите плотность мёда.

2) Какова плотность такой смеси, если в 450 г сока растворили 210 г мёда? При растворении мёда в соке объём смеси можно считать равным сумме объёмов исходных компонентов смеси.

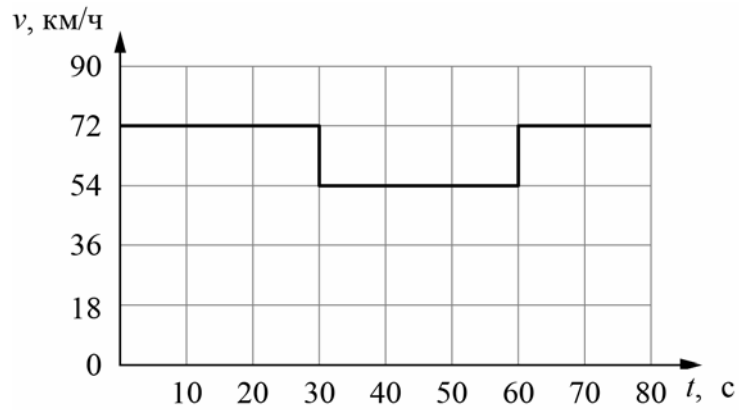
Ответ: 1) _____ г/см^3 ;

2) _____ г/см^3 .

10

Согласно инструкции для машинистов, если локомотив или хотя бы один вагон поезда движется по мосту, скорость поезда не должна превышать 60 км/ч. Машинист вёл поезд, строго выполняя инструкцию. На рисунке показан график зависимости скорости v движения поезда от времени t .

- 1) Сколько времени поезд ехал по мосту?
 - 2) Определите длину поезда, если длина состава в два раза больше длины моста.
 - 3) Сколько вагонов было в составе, если длина локомотива и каждого вагона поезда $l = 15$ м?
- Ответы на вопросы обоснуйте соответствующими рассуждениями или решением задачи.



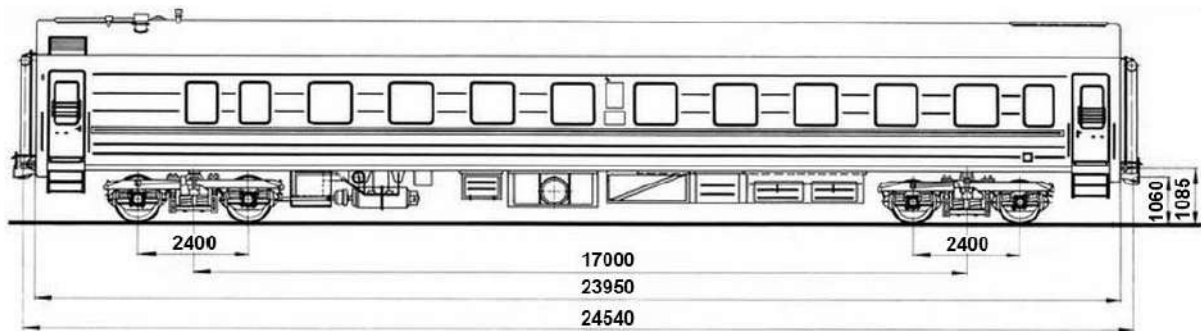
Решение:	
<div style="border: 1px solid black; width: 40px; height: 30px; display: inline-block; margin-bottom: 5px;"></div> Ответ:	

11

Вдоль стоящего на станции пассажирского поезда идёт обходчик. Он резко ударяет молотком по оси каждого колеса и затем на мгновение прикладывает к ней руку. Пассажир Денис Николаевич заметил, что вдоль всего состава обходчик проходит за 4,5 минут, делая при этом 44 удара. Пользуясь чертежом вагона, оцените:

- 1) сколько вагонов в поезде?
- 2) с какой средней скоростью идёт обходчик?
- 3) чему равен минимальный интервал времени между слышимыми ударами?

Размеры на чертеже вагона приведены в миллиметрах. Напишите полное решение этой задачи.



Решение:

 Ответ:

Система оценивания проверочной работы

Правильный ответ на каждое из заданий 1, 3-6, 8 оценивается 1 баллом.

Полный правильный ответ на задание 9 оценивается 2 баллами. Если в ответе допущена одна ошибка (одно из чисел не записано или записано неправильно), выставляется 1 балл; если оба числа записаны неправильно или не записаны – 0 баллов.

№ задания	Ответ
1	10
3	2
4	25
5	5
6	0,88
8	1,3
9	1,4; 1,1

Решения и указания к оцениванию заданий 2, 7, 10 и 11

2

Решение	
Увеличится – молекулы воды в жидком состоянии движутся быстрее молекул воды, находящейся в твёрдом состоянии. Внутреннее строение молекул одного и того же вещества одинаково в любом агрегатном состоянии.	
Указания к оцениванию	Баллы
Приведены полностью правильные ответы на оба вопроса задачи и все необходимые объяснения.	2
В решении имеется один или несколько из следующих недостатков: Приведены только правильные ответы на оба вопроса без необходимых объяснений. И (ИЛИ) В решении даны верные ответы на оба вопроса, но имеется неточность в их объяснении.	1
Все случаи решения, которые не соответствуют вышеуказанным критериям выставления оценок в 1 или 2 балла.	0
<i>Максимальный балл</i>	2

7

Решение	
Да. Удлинение резинки должно быть прямо пропорционально приложенной силе, что выполняется в данном опыте.	
Указания к оцениванию	Баллы
Приведён полностью правильный ответ на вопрос и дано правильное объяснение.	2
В решении имеется один или несколько из следующих недостатков. Приведён только правильный ответ на вопрос без объяснения. ИЛИ Приведено правильное объяснение, но правильный ответ в явном виде отсутствует. И (ИЛИ) Дан правильный ответ на вопрос, но в объяснении имеется неточность.	1
Все случаи решения, которые не соответствуют вышеуказанным критериям выставления оценок в 1 или 2 балла.	0
<i>Максимальный балл</i>	
	2

10

Решение	
<p>1) Из графика следует, что поезд двигался по мосту от 30 до 60 с, то есть 30 секунд.</p> <p>2) Скорость поезда в этот промежуток времени равнялась $v = 54 \text{ км/ч} = 15 \text{ м/с}$. За это время локомотив поезда прошёл путь $S = v \cdot t = 450 \text{ м}$. Это расстояние складывается из длины моста и длины состава. Так как длина поезда в два раза больше длины моста, длина поезда равна $L = 300 \text{ м}$.</p> <p>3) Определим количество вагонов в поезде, учитывая, что длина каждого вагона и локомотива $l = 15 \text{ м}$. Тогда $N = (L/l) - 1 = 19$ вагонов</p> <p>Допускается другая формулировка рассуждений. Ответ: 1) 30 с; 2) 300 м; 3) 19</p>	
Указания к оцениванию	Баллы
Приведено полное решение, включающее следующие элементы: I) записаны положения теории, физические законы, закономерности, формулы и т.п., <u>применение которых необходимо</u> для решения задачи выбранным способом (в данном случае: <i>связь между пройденным путём, временем движения и скоростью</i>); II) проведены нужные рассуждения, верно осуществлена работа с графиками, схемами, таблицами (при необходимости), сделаны необходимые математические преобразования и расчёты, приводящие к правильному числовому ответу (допускается решение «по частям» с промежуточными вычислениями; часть промежуточных вычислений может быть проведена «в уме»; задача может решаться как в общем виде, так и путём проведения вычислений непосредственно с заданными в условии численными значениями); III) представлен правильный численный ответ на все три вопроса задачи с указанием единиц измерения искомой величины.	3
Приведено полное верное решение (I, II) и дан правильный ответ (III) только для двух пунктов задачи	2
Приведено полное верное решение (I, II) и дан правильный ответ (III) только для одного пункта задачи	1
Все случаи решения, которые не соответствуют вышеуказанным критериям выставления оценок в 1, 2 или 3 балла	0
<i>Максимальный балл</i>	
	3

11

Решение	
<p>Рассмотрим чертёж.</p> <p>1) У вагона четыре колеса. Поэтому в поезде $44/4 = 11$ вагонов.</p> <p>2) Длина вагона примерно равна 24,5 м. Вдоль всего состава обходчик проходит за 4,5 мин = 270 с. Значит, длина поезда примерно равна 270 м, а средняя скорость обходчика примерно равна $270 \text{ м} / 270 \text{ с} = 1 \text{ м/с}$.</p> <p>3) Минимальное расстояние между осями двух соседних колёс равно 2,4 м. Поэтому минимальный интервал времени между слышимыми ударами равен $2,4 \text{ м} / 1 \text{ м/с} = 2,4 \text{ с}$.</p> <p>Ответ: 11 вагонов; 1 м/с; 2,4 с.</p> <p>Допускается другая формулировка рассуждений.</p>	
Указания к оцениванию	Баллы
<p>Приведено полное решение, включающее следующие элементы:</p> <p>I) записаны положения теории, физические законы, закономерности, формулы и т.п., <u>применение которых необходимо</u> для решения задачи выбранным способом (в данном случае: <i>связь между скоростью, временем движения и пройденным за это время путём</i>);</p> <p>II) проведены нужные рассуждения, верно осуществлена работа с графиками, схемами, таблицами (при необходимости), сделаны необходимые математические преобразования и расчёты, приводящие к правильному числовому ответу (допускается решение «по частям» с промежуточными вычислениями; часть промежуточных вычислений может быть проведена «в уме»; задача может решаться как в общем виде, так и путём проведения вычислений непосредственно с заданными в условии численными значениями);</p> <p>III) представлен правильный численный ответ на все три вопроса задачи с указанием единиц измерения искомой величины.</p>	3
Приведено полное верное решение (I, II) и дан правильный ответ (III) только для двух пунктов задачи	2
Приведено полное верное решение (I, II) и дан правильный ответ (III) только для одного пункта задачи	1
Все случаи решения, которые не соответствуют вышеуказанным критериям выставления оценок в 1, 2 или 3 балла	0
<i>Максимальный балл</i>	3

Система оценивания выполнения всей работы

Максимальный балл за выполнение работы – **18**.

Рекомендуемая таблица перевода баллов в отметки по пятибалльной шкале

Отметка по пятибалльной шкале	«2»	«3»	«4»	«5»
Первичные баллы	0–4	5–7	8–10	11–18