

**Проверочная работа
по ФИЗИКЕ**

8 класс

Вариант 1

Инструкция по выполнению работы

На выполнение работы по физике даётся 45 минут. Работа содержит 11 заданий.

Ответом на каждое из заданий 1, 3-7, 9 является число или несколько чисел. В заданиях 2 и 8 нужно написать текстовый ответ. В заданиях 10 и 11 нужно написать решение задач полностью. В случае записи неверного ответа зачеркните его и запишите рядом новый.

При выполнении работы можно пользоваться непрограммируемым калькулятором.

При необходимости можно пользоваться черновиком. Записи в черновике проверяться и оцениваться не будут.

Советуем выполнять задания в том порядке, в котором они даны. Для экономии времени пропускайте задание, которое не удаётся выполнить сразу, и переходите к следующему. Постарайтесь выполнить как можно больше заданий.

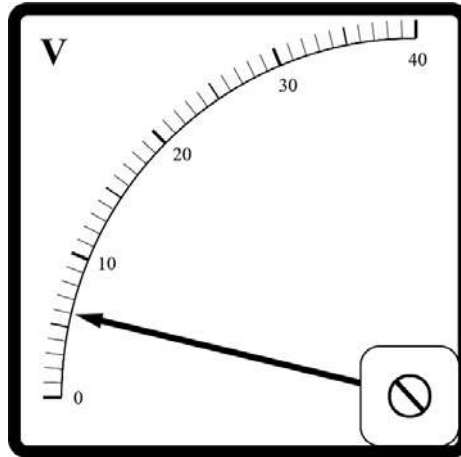
Желаем успеха!

Таблица для внесения баллов участника

Номер задания	1	2	3	4	5	6	7	8	9	10	11	Сумма баллов	Отметка за работу
Баллы													

1

Заметив, что радиоуправляемая машинка начала ездить слишком медленно, Петя решил измерить при помощи вольтметра напряжение на аккумуляторе в машинке. На корпусе аккумулятора написано «12 В». На рисунке изображена шкала вольтметра, подключённого Петей к этому аккумулятору. На какую величину реальное напряжение на аккумуляторе меньше значения, указанного на его корпусе?



Ответ: _____ В.

2

Люди, носящие очки, знают, что, когдаходишь с мороза в тёплое помещение – очки моментально запотевают. Объясните, почему стёкла очков запотевают.

Ответ: _____

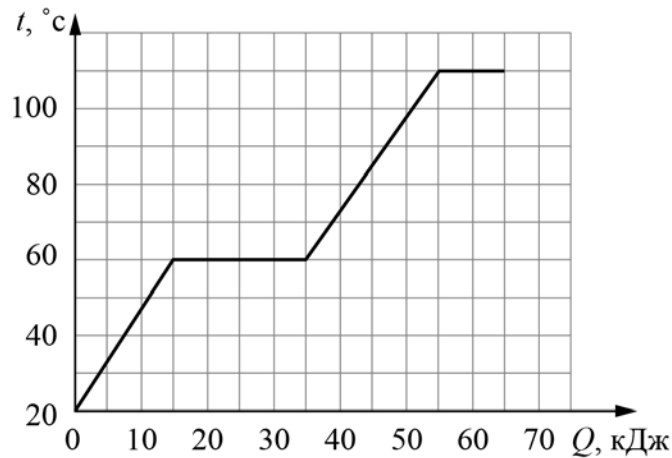
3

Каждую секунду с поверхности Земли испаряется в среднем около 16 миллионов тонн воды. Вычислите, какое количество теплоты требуется для превращения в пар всей этой воды, если её удельная теплота парообразования 2300 кДж/кг. Ответ выразите в миллиардах килоджоулей. Один миллиард – это 1 000 000 000.

Ответ: _____ миллиардов кДж.

4

На графике показана зависимость температуры некоторого вещества от подведённого к нему количества теплоты. Найдите удельную теплоёмкость этого вещества при изменении его температуры от $80\text{ }^{\circ}\text{C}$ до $100\text{ }^{\circ}\text{C}$. Масса вещества $0,8\text{ кг}$.



Ответ: _____ Дж/(кг·°C).

5

Валера проводил опыты со льдом и водой, нагревая их на электроплитке в закрытой алюминиевой кружке. Оказалось, что для плавления $0,2\text{ кг}$ льда, находившегося при $0\text{ }^{\circ}\text{C}$, требуется 250 секунд, а для нагревания такой же массы воды на $20\text{ }^{\circ}\text{C}$ необходимо 60 секунд. Валера предположил, что мощность плитки постоянна, и что всё количество теплоты, поступающее от плитки, идёт на плавление льда (или нагревание воды). Зная, что удельная теплоёмкость воды равна $4200\text{ Дж/(кг·}^{\circ}\text{C)}$, помогите Валере определить по полученным экспериментальным данным удельную теплоту плавления льда.

Ответ: _____ Дж/кг.

6

Толя и Глеб договорились встретиться в парке, который находится между районами, в которых проживают друзья. В одно и то же время ребята вышли из своих домов навстречу друг другу. Толя шёл быстрым шагом со скоростью 6 км/ч , а Глеб ехал навстречу другу на велосипеде со скоростью 16 км/ч . Через 30 минут расстояние между ребятами уменьшилось в два раза. Чему равно расстояние между домами школьников?

Ответ: _____ км.

7

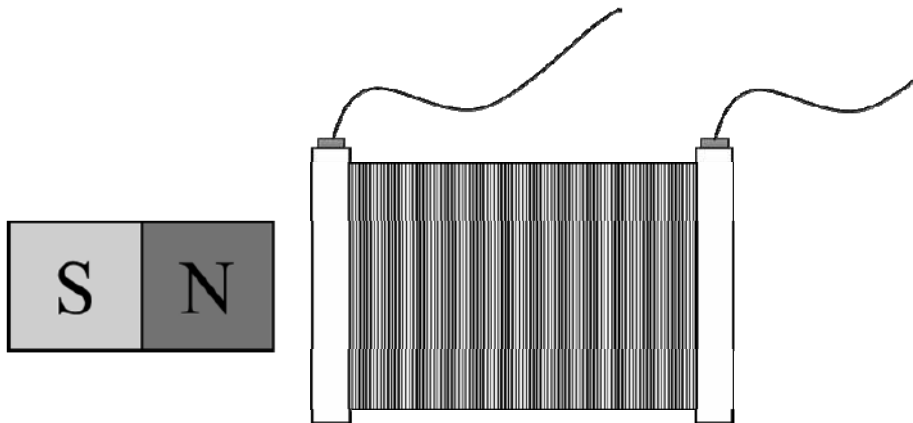
В электронных приборах, к надёжности работы которых предъявляются повышенные требования, часто используются контакты из золота, поскольку этот металл не подвержен коррозии. Во сколько раз сопротивление контакта из золота будет больше сопротивления аналогичного медного контакта? Ответ округлите до сотых.

Удельное электрическое сопротивление ρ некоторых веществ, Ом·мм ² /м (при 20 °С)			
Материал	ρ	Материал	ρ
Серебро	0,016	Манганин (сплав)	0,43
Медь	0,017	Константан (сплав)	0,50
Золото	0,024	Ртуть	0,98
Алюминий	0,028	Нихром (сплав)	1,1
Вольфрам	0,055	Фехраль (сплав)	1,3
Железо	0,10	Графит	13
Свинец	0,21	Фарфор	10 ¹⁹
Никелин (сплав)	0,40	Эбонит	10 ²⁰

Ответ: в _____ раз(а).

8

Если через закрепленную катушку пропустить постоянный электрический ток, то она отталкивается от закрепленного постоянного магнита (см. рис.). Как изменится сила, действующая на магнит со стороны катушки, если увеличить ток, текущий через катушку? Кратко объясните ответ.



Ответ и объяснение: _____

9

В нашей стране во второй половине XX века были очень популярны ложки из мельхиора – сплава меди и никеля. Такие ложки внешне очень похожи на серебряные, но они более прочные и обладают большей удельной теплоёмкостью, а значит, при контакте с горячей пищей они нагреваются меньше.

Сплав, из которого сделана мельхиоровая ложка, содержит 25 % никеля и 75 % меди по массе. Удельная теплоёмкость никеля $c_n = 440 \text{ Дж}/(\text{кг}\cdot^\circ\text{C})$, а удельная теплоёмкость меди $c_m = 380 \text{ Дж}/(\text{кг}\cdot^\circ\text{C})$.

- 1) Какова масса никеля в сплаве, если масса ложки $m = 25 \text{ г}$?
- 2) Определите среднюю удельную теплоёмкость материала такой ложки.

Ответ: 1) _____ г;
 2) _____ Дж/(кг·°C).

10

Туристу-лыжнику было лень идти до проруби, поэтому вместо того, чтобы зачерпнуть $V = 2.5 \text{ л}$ воды из проруби, он насыпал в алюминиевый котелок $m = 2.5 \text{ кг}$ сухого снега. Плотность воды $\rho = 1000 \text{ кг}/\text{м}^3$, удельная теплота плавления льда $\lambda = 330 \text{ кДж}/\text{кг}$. Потерями теплоты можно пренебречь. Снег состоит из мелких кристалликов льда.

- 1) Определите массу воды, которую туристу нужно было зачерпнуть из проруби.
- 2) Какое количество теплоты нужно было затратить, чтобы превратить снег в котелке в воду?
- 3) На сколько дольше туристу пришлось ждать закипания воды, если и вода, и снег имеют начальную температуру 0°C , а мощность туристической газовой горелки $P = 1.25 \text{ кВт}$?

Решение:

Ответ:

11

Толя взял стрелочный вольтметр, рассчитанный на измерение напряжения не более 4 В, и решил увеличить его предел измерений до 8 В. Для этого Толя припаял к одному из выходов вольтметра дополнительный резистор и переградуировал шкалу прибора, получив тем самым вольтметр с увеличенным внутренним сопротивлением и расширенным диапазоном измерений. То есть, когда вольтметр по старой шкале показывал значение напряжения 4 В, на новой шкале стрелка указывала на деление в 8 В.

- 1) Если напряжение на последовательно соединённых вольтметре и дополнительном резисторе составляет 8 В, а напряжение на вольтметре составляет 4 В, то чему равно напряжение на резисторе?
- 2) Если считать, что внутреннее сопротивление вольтметра составляет 1 кОм, то чему равно сопротивление дополнительного резистора, который Толя припаял к вольтметру?
- 3) Точность изготовления резисторов на заводе составляет $\pm 5\%$. В каком диапазоне может лежать суммарная величина напряжения на резисторе и вольтметре, если вольтметр по старой шкале показывает 1 В? Считайте показания вольтметра по старой шкале точными. Напишите полное решение этой задачи.

Решение:	
Ответ:	



Система оценивания проверочной работы

Правильный ответ на каждое из заданий 1, 3-7 оценивается 1 баллом.

Полный правильный ответ на задание 9 оценивается 2 баллами. Если в ответе допущена одна ошибка (одно из чисел не записано или записано неправильно), выставляется 1 балл; если оба числа записаны неправильно или не записаны – 0 баллов.

№ задания	Ответ
1	6
3	36800
4	500
5	350 000
6	22
7	1,41
9	6,25; 395

Решения и указания к оцениванию заданий 2, 8, 10 и 11

Решение	
Из-за конденсации пара. Водяной пар, содержащийся в тёплом воздухе в помещении, охлаждается около холодной линзы очков и конденсируется на ней.	
Указания к оцениванию	Баллы
Приведено полностью правильное объяснение явления.	2
В решении имеется один или несколько из следующих недостатков. Приведено только правильное указание явления без его объяснения.	1
И (ИЛИ)	
В решении имеется неточность в объяснении явления.	
Все случаи решения, которые не соответствуют вышеуказанным критериям выставления оценок в 1 или 2 балла.	0
<i>Максимальный балл</i>	
	2

Решение	
Увеличится. При увеличении силы тока, текущего через катушку, увеличивается создаваемое ею магнитное поле, а значит и сила, действующая на манит.	
Указания к оцениванию	Баллы
Приведён полностью правильный ответ на вопрос и дано правильное объяснение.	2
В решении имеется один или несколько из следующих недостатков. Приведён только правильный ответ на вопрос без объяснения.	1
ИЛИ	
Приведено правильное объяснение, но правильный ответ на вопрос дан лишь частично.	
И (ИЛИ)	
В решении дан правильный ответ на вопрос, но в объяснении имеется неточность.	
Все случаи решения, которые не соответствуют вышеуказанным критериям выставления оценок в 1 или 2 балла.	0
<i>Максимальный балл</i>	
	2

10

Решение	
<p>1) Масса воды составляет $m_b = \rho_b V = 2.5 \text{ кг}$</p> <p>2) Количество теплоты, требуемое для плавления снега, равно $\Delta Q = \lambda m = 825 \text{ кДж}$</p> <p>3) Масса воды равна массе снега. При приготовлении кипятка из снега его требуется сначала расплавить, для чего необходимо дополнительное количество теплоты $\Delta Q = \lambda m$. Поэтому дополнительное время ожидания равно $\Delta t = \Delta Q/P = \lambda m/P = 660 \text{ с} = 11 \text{ мин.}$</p> <p>Ответ: 1) 2.5 кг; 2) 825 кДж; 3) 11 мин.</p> <p>Допускается другая формулировка рассуждений</p>	
Указания к оцениванию	Баллы
<p>Приведено полное решение, включающее следующие элементы:</p> <p>I) записаны положения теории, физические законы, закономерности, формулы и т.п., применение которых необходимо для решения задачи выбранным способом (<i>связь между массой, плотностью и объёмом, выражения для количества теплоты при нагревании и плавлении, формула мощности</i>);</p> <p>II) проведены нужные рассуждения, верно осуществлена работа с графиками, схемами, таблицами (при необходимости), сделаны необходимые математические преобразования и расчёты, приводящие к правильному числовому ответу (допускается решение «по частям» с промежуточными вычислениями; часть промежуточных вычислений может быть проведена «в уме»; задача может решаться как в общем виде, так и путём проведения вычислений непосредственно с заданными в условии численными значениями);</p> <p>III) представлены правильные численные ответы на все три вопроса задачи с указанием единиц измерения искомых величин</p>	3
Приведено полное верное решение (I, II) и дан правильный ответ (III) только для двух пунктов задачи	2
Приведено полное верное решение (I, II) и дан правильный ответ (III) только для одного пункта задачи	1
Все случаи решения, которые не соответствуют вышеуказанным критериям выставления оценок в 1, 2 или 3 балла	0
<i>Максимальный балл</i>	3

11

Решение	
<p>1) Так как вольтметр и резистор соединены последовательно, то общее напряжение на них складывается из суммы напряжений на резисторе и вольтметре. Таким образом, если напряжение на вольтметре составляет 4 В, а общее напряжение 8 В, то напряжение на резисторе составит 4 В.</p> <p>2) Так как напряжения на вольтметре и на резисторе одинаковые, то дополнительный резистор должен обладать сопротивлением, совпадающим с внутренним сопротивлением вольтметра, то есть 1 кОм.</p> <p>3) Если вольтметр показывает 1 В, а его внутреннее сопротивление составляет 1 кОм, то ток, текущий через него, равен 1 мА. Напряжение на дополнительном резисторе есть произведение тока, текущего в цепи, на сопротивление дополнительного резистора. Так как сопротивление резистора лежит в диапазоне (0,95; 1,05) кОм, то напряжение на нём при токе в 1 мА лежит в диапазоне (0,95; 1,05) В. Тогда общее напряжение на вольтметре и резисторе может лежать в диапазоне: (1,95; 2,05) В</p> <p>Ответ: 1) 4 В; 2) 1 кОм; 3) $1,95 \text{ В} < U < 2,05 \text{ В}$.</p>	
Указания к оцениванию	Баллы
Приведено полное решение, включающее следующие элементы: I) записаны положения теории, физические законы, закономерности, формулы и т.п., <u>применение которых необходимо</u> для решения задачи выбранным способом; II) проведены нужные рассуждения, верно осуществлена работа с графиками, схемами, таблицами (при необходимости), сделаны необходимые математические преобразования и расчёты, приводящие к правильному числовому ответу (допускается решение «по частям» с промежуточными вычислениями; часть промежуточных вычислений может быть проведена «в уме»; задача может решаться как в общем виде, так и путём проведения вычислений непосредственно с заданными в условии численными значениями); III) представлен правильный численный ответ на все три вопроса задачи с указанием единиц измерения искомой величины	3
Приведено полное верное решение (I, II) и дан правильный ответ (III) только для двух пунктов задачи	2
Приведено полное верное решение (I, II) и дан правильный ответ (III) только для одного пункта задачи	1
Все случаи решения, которые не соответствуют вышеуказанным критериям выставления оценок в 1, 2 или 3 балла	0
<i>Максимальный балл</i>	3

Система оценивания выполнения всей работы

Максимальный балл за выполнение работы – **18**.

Рекомендуемая таблица перевода баллов в отметки по пятибалльной шкале

Отметка по пятибалльной шкале	«2»	«3»	«4»	«5»
Первичные баллы	0–4	5–7	8–10	11–18